

ШИФР 9-45

Олимпиадная работа
муниципального этапа всероссийской олимпиады школьников
по ОБЗР

учащейся 9 класса
муниципального бюджетного общеобразовательного учреждения
«Средняя общеобразовательная школа № 6»
Старооскольского городского округа

Пирард Елизаветы Сергеевны

Педагог-наставник:
МБОУ «СОШ № 6»
учитель ОБЗР
Важничин Сергей Владимирович

«___» _____ 2025 г

9-45

ТЕОРЕТИЧЕСКИЙ ТУР

9 класс

Впишите свой код/шифр		

Уважаемый участник Олимпиады!

При выполнении заданий теоретического тура Вам предстоит выполнить определенную работу, которую лучше организовать следующим образом:

- не спеша, внимательно прочитайте задание и входящие в него вопросы или ситуации;
- определите, наиболее верный и полный ответ;
- если вы отвечаете на теоретический вопрос, обдумайте и сформулируйте конкретный ответ только на поставленный вопрос;
- если вы отвечаете на предложенную ситуацию, обдумайте порядок и последовательность действий по предложенной ситуации и впишите ответы в схему в той последовательности, которую вы определили, при этом ответ должен быть кратким, но содержать необходимую информацию;
- если вы отвечаете на задание, связанное с заполнением таблицы, не старайтесь детализировать информацию, вписывайте только те сведения или данные, которые указаны в вопросе или верхних графах;
- после выполнения всех предложенных заданий еще раз удостоверьтесь в правильности выбранных вами ответов и решений;

Задание теоретического тура по данной предметной секции считается выполненным, если Вы вовремя сдаете его членам жюри. Время выполнения задания составляет 180 минут.

Желаем вам успеха!

Оценка за Теоретический блок 27 баллов (максимальная 80 баллов)

Оценка за Блок тестирования 6 баллов (максимальная 20 баллов)

Оценка результата участника за ТЕОРЕТИЧЕСКИЙ ТУР 33 баллов
(максимально за теоретический тур 100 баллов)

гипотеза), которая указывает на характер и масштабы воздействия землетрясения на поверхность земли, людей, животных, а также

на естественные и искусственные сооружения в районе землетрясения.
Выполните задание:

А. Заполните правый столбец таблицы указав характер и масштаб воздействия согласно интенсивности землетрясения, и баллам.

Вариант ответа:

№	Интенсивность землетрясения, I, баллы	Характер и масштаб воздействия
1	1 балл (незаметное)	небольшие колебания, незаметные
2	2 балла (очень слабое)	очень слабые колебания, не доставляющие большого дискомфорта
3	3 балла (слабое)	колебания слабые колебания, так же не доставляют большого дискомфорта
4	4 балла (умеренное)	умеренные колебания, толчки,
5	5 баллов (довольно сильное)	достаточно сильные колебания, толчки ощущаются дискомфортом для жителей местности.
6	6 баллов (сильное)	сильные колебания и толчки разрушения, опасность для тех, кто населяет территорию во время землетрясения
7	7 баллов (очень сильное)	очень сильные колебания и толчки, разрушения, большая опасность
8	8 баллов (разрушительное)	землетрясение, обладающее разрушительной силой. Разрушаются различные здания и сооружения
9	9 баллов (опустошительное)	опустошает местность, разрушает здания и сооружения и т.д. очень сильная опасность
10	10 баллов (уничтожающее)	уничтожает все, что есть на этой территории, которую он охватывает. представляет огромную опасность.
11	11 баллов (катастрофа)	еще очень большие масштабы, приводит к другим последствиям, огромная опасность угрозы жизни
12	12 баллов (сильная катастрофа)	огромные масштабы катастрофы, разрушение всего, что находится на территории, действия, которые приводят к другим последствиям, угрожающим жизни

Б. Вставьте в представленный ниже текст недостающие слова:

Текст

Будьте внимательны к сообщениям органов по делам _____ (1) субъектов и городов РФ, строго выполняйте их указания и рекомендации. Обычно от момента первых колебаний до разрушительных толчков проходит _____ (2) сек. Поэтому, если Вы ощутили колебания (3), находясь в здании на первом-втором этажах, лучше быстро покинуть здание (при этом пользоваться лифтом (4) категорически запрещено) и отойти от него на открытое место. Находясь выше второго (5) этажа – уйдите из угловых комнат,

займите наиболее безопасное место (на удалении от окон, в проемах внутренних капитальных стен, в углах между стенами, лучше под кроватью, столом или другими устойчивыми прочными _____ (6)).

За первым толчком, как правило, следуют _____ (7). Используйте эти для выхода из дома. Берегитесь обрушения кусков штукатурки, стекол, кирпичей, арматуры и др.

На улице держитесь подальше от зданий, линий электропередач, столбов, трубопроводов, мостов и др.

Если землетрясение застало в _____ (8) – остановитесь (лучше на открытом месте), откройте двери, но не покидайте салон автомобиля.

Вариант ответа:

1	охраной / защиты —
2	15. ✓
3	колебания, толчки —
4	лицом ✓
5	второго ✓
6	предметами ✓
7	другие
8	дороге / транспорте ✓

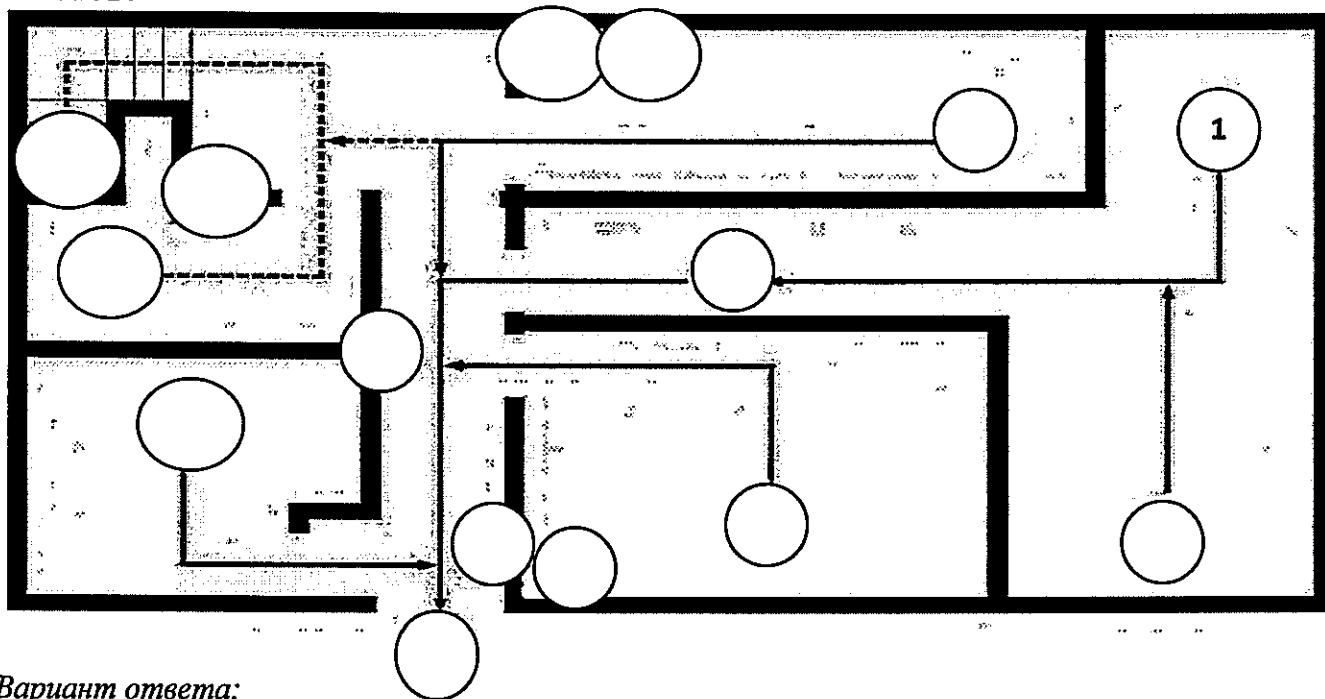
Оценочные баллы: максимально – 20 баллов;

фактически набранные баллы за задание – 6

Подписи членов жюри

[Подписи]

Задание 2. На схеме отсутствуют эвакуационные знаки и знаки пожарной безопасности. Заполните таблицу, вписав цифры, соответствующие знакам, размещенным в указанных данными цифрами местах. Допускается 15 ответов.



Вариант ответа:



Оценочные баллы: максимально – 15 баллов;

фактически набранные баллы за задание –

Подписи членов жюри

Всеее

Задание 3. К наиболее опасным террористическим актам можно отнести:

Вариант ответа:

Во-первых, к первым видам наиболее опасных террористических актов является взрыв

Оценочные баллы: максимально – 14 баллов;

фактически набранные баллы за задание –

Подписи членов жюри

Всеее

Задание 4. Выполните задание:

А. Заполните таблицу указав тип возможных заболеваний в туристском походе:

Вариант ответа:

Вид опасности	Тип заболевания
---------------	-----------------

Неблагоприятные метеорологические условия	простуда, ангина, /
высокогорье	проблемы с дыханием и давлением
Яркий солнечный свет	отсощ, солнечный удар
Отличный от привычного режима дня, питания	переедание, проблемы со сном, проблемы с желудком
Длительное физическое напряжение, трудности при передвижении по пересечённой местности с тяжёлым рюкзаком	переедание
Укусы насекомых	заражения, молярич, сыпь, зуд


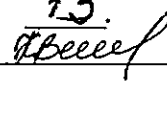
Б. Определите перечень личного снаряжения при подготовке к туристскому походу, поставив знак «+» в соответствующие ячейки.:

Пеший туристский поход	Перечень личного снаряжения, которые обеспечивают безопасность туриста в походе:	Водный туристский поход
+	Аптечка.	+
+	Налобный фонарик	
+	Спальный мешок	
+	Специальная обувь	+
+	Туристический коврик и сидуха	
+	Защитная каска	
+	Солнце защитные очки и треккинг палки	
+	Посуда для приёма пищи и бутылка для воды	
	Спасательный жилет	+
+	Мембранная куртка	
+	Треккинг ботинки	
	Гидрокостюм	+
	Гидромешок	+

Оценочные баллы: максимально – 19 баллов;

фактически набранные баллы за задание - 13.

Подписи членов жюри

Задание 5. Укажите способы временной остановки наружных кровотечений, которые применяются при оказании первой помощи в условиях мирного времени (согласно Порядку оказания первой помощи) – столбец А и в

условиях ведения военных (боевых) действий (без дополнительных мероприятий первой помощи, которые могут выполнять лица, прошедшие подготовку по программам Минобороны) – столбец Б.

Вариант ответа:

А	Способы временной остановки наружных кровотечений	Б
✓ 1	Максимальное сгибание конечности в суставе	✓ 1
✓ 1	Наложение кровоостанавливающего жгута	
	Применение местного гемостатического средства	✓ 1
	Пальцевое прижатие артерии	✓ 1
✓ 1	Прямое давление на рану	
✓ 1	Наложение давящей повязки на рану	✓ 1

Оценочные баллы: максимально – 9 баллов;

фактически набранные баллы за задание – 7

Подписи членов жюри

Задание 6. Перечислите три основных причины чрезмерного увеличения веса человека:

Вариант ответа:

- 1) переедание
- 2) отсутствие физической регулярной нагрузки
- 3) стресс
- 4) плохой сон
- 5) нездоровое питание

Оценочные баллы: максимально – 3 балла;

фактически набранные баллы за задание – 1





Подписи членов жюри

Баллы за задания Теоретического блока						
№ задания	1	2	3	4	5	6
Кол-во баллов	6	0	0	13	7	1

Подпись председателя жюри

Подписи членов жюри

ЗАДАНИЯ ТЕОРЕТИЧЕСКОГО ТУРА (Блок тестирования)

№ п/п	Тестовые задания	Макс. балл	Кол-во набранных баллов
1	2	3	4
Определите все правильные ответы			
1.	<p>После проведения оценки обстановки и обеспечения безопасных условий для оказания первой помощи выполняется следующее мероприятие первой помощи:</p> <p>аа) определение наличия признаков жизни у пострадавшего;</p> <p>б) проведение подробного осмотра и опроса пострадавшего для выявления состояний, угрожающих его жизни и здоровью;</p> <p>в) проведение обзорного осмотра пострадавшего для выявления продолжающегося наружного кровотечения, его временная остановка (при наличии);</p> <p>г) оказание помощи пострадавшему в принятии лекарственных препаратов</p>	2	
2.	<p>Верны ли следующие суждения? Восстановление проходимости дыхательных путей при оказании первой помощи рекомендуется выполнять:</p> <p>А. посредством запрокидывания головы с подъемом подбородка</p> <p>Б. посредством выдвижения нижней челюсти</p> <p>а) верно только А;</p> <p>б) верно только Б;</p> <p>в) верны оба суждения;</p> <p>г) оба суждения неверны</p>	2	
3.	<p>Наиболее высоким коэффициентом ослабления радиации в жилом пятиэтажном каменном здании обладает:</p> <p>а) 1-й этаж;</p> <p>б) 2-й этаж;</p> <p>в) 3-й этаж;</p> <p>г) 4-й этаж</p>	2	
4	<p>К отравляющим веществам раздражающего действия, временно выводящим из строя, относятся:</p> <p>а) Си-эс;</p> <p>б) Люизит;</p>	2	

	в) Би-зет; г) Ви-икс		
5	По основному назначению топографические карты масштаба 1:25 000 относятся: а) к тактическим; <input checked="" type="radio"/> б) к оперативно-тактическим; в) к оперативным; г) к общей оценке местности	2	—
6	В каких случаях карта не поможет в ориентировании на местности? а) в сильном тумане; б) в городе; в) на берегу реки;	2	✓
7	Глубина указывается на топографических знаках, обозначающих: а) такыры; <input checked="" type="radio"/> б) солончаки непроходимые; в) солончаки проходимые; г) болота непроходимые;	2	—
8	Наиболее эффективным при тушении пожара класса «С» являются: а) воздушно-эмульсионные огнетушители; <input checked="" type="radio"/> б) водные огнетушители; в) воздушно-пенные огнетушители; г) порошковые огнетушители	2	—
9	К ручному немеханизированному пожарному инструменту относится: а) пневмомолоток; б) багор; в) цепная пила по дереву;	2	—
10	Мошенничество с использованием электронных средств платежа является преступлением: а) в сфере компьютерной информации; б) против порядка управления; в) против собственности; <input checked="" type="radio"/> г) в сфере экономической деятельности	2	—
Количество баллов		max 20	6

Оценочные баллы: максимально – 20 баллов;

фактически набранные баллы за Блок тестирования - 6.

Подпись председателя жюри

Подписи членов жюри

Кривенко *Жури В.А.*
Козлов Е.В.